

المادة/ تاريخ	امتحان الفصل الدراسي الأول 2023 م / 2024 م	نموذج استرشادي
الصف/ الثاني الثانوي		
الزمن/ ساعة ونصف		

الورقة الأولى

السؤال الأول: أجب عما يأتي:

1- واجه الرسول (صلي الله عليه وسلم) بعد هجرته إلى يثرب مجتمعاً غير متجانس لذلك حرص على القيام بـ

- أ) بناء المسجد
ب) وضع نظام اقتصادي
ج) وضع دستور المدينة
د) المواخاة بين المهاجرين والأنصار

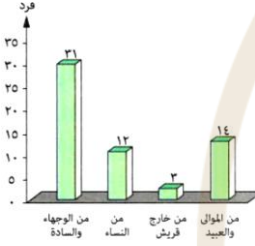
2- ظهر التمييز العنصري واضحاً في شبه الجزيرة العربية قبل ظهور الإسلام في

- أ) وأد البنات
ب) الأخذ بالثأر
ج) العصبية القبلية
د) قطع طرق القوافل

3- قام الأمويون بتطبيق شعار الهجوم خير وسيلة للدفاع في

- أ) بلاد ما وراء النهر
ب) بلاد الأندلس
ج) بلاد السند
د) آسيا الصغرى

4- أمامك شكل يوضح أعداد المجتمع الإسلامي في مرحلة سرية الدعوة، من هذا الشكل يتضح



- أ) عالمية الدعوة الإسلامية
ب) شمولية الدعوة الإسلامية
ج) دور النساء في الدعوة الإسلامية
د) قوة الدعوة الإسلامية في بدايتها

5- ترجع تبعية مملكة الحيرة للدولة الفارسية الساسانية إلى

- أ) الديانة المشتركة
ب) التبادل التجاري
ج) موقعها الجغرافي
د) تشابه نظام الحكم

6- أيد صحة العبارة التالية تاريخياً: لم يعرف النظام القبلي مبدأ الفصل بين السلطات.

6

السؤال الثاني: أجب عما يأتي:

1- نستدل من النص المقابل: أن أهم الدروس المستفادة من فتح المسلمين للأندلس

قال الخليفة الوليد بن عبد الملك ردّاً على موسى ابن نصير: «خضها بالسرايا حتى ترى وتختبر شأنها، ولا تغرر بالمسلمين في بحر شديد الأهوال».

- أ) إدارة الأزمات
ب) التخطيط الجيد
ج) الإتقان في العمل
د) الاستفادة من الموارد المتاحة

2- درس الاستفادة من موقف النجاشي هو

- أ) التعصب الديني
ب) القدرة على التخطيط الجيد
ج) الهروب من المواقف
د) التأييد في إصدار الأحكام

3- تجلت حكمة الرسول (صلي الله عليه وسلم) وقدرته على تصريف الأمور في الورقة الثانية

- أ) رغبته في التفكير والتأمل
ب) وضع الحجر الأسود في مكانه
ج) مناصرته للمظلوم
د) ذهابه إلى ورقة بن نوفل

جاء في عهد الأمان الذي منحه عمر بن

الخطاب لأهل مدينة بيت المقدس :

«أعطاهم أماناً لأنفسهم وأموالهم

وكنائسهم وصلبانهم وأن لا تسكن

كنائسهم ولا تُهدم».

4- يتفق ما جاء في النص المقابل مع

- أ) حلف الفضول
ب) بيعة العقبة الثانية
ج) خطبة أبي بكر عند البيعة
د) وصايا الرسول ﷺ للفاتحين

5- كانت للعصبية القبلية أثرها في إنقاذ النبي ﷺ من بطش قريش أثناء

- أ) الهجرة إلى الطائف
ب) بيعة العقبة الثانية
ج) المقاطعة الاقتصادية
د) التخطيط للهجرة

6- حدد أوجه الاختلاف بين كل من: أهل الطائف، وأهل يثرب من حيث معاملة كل منهما للرسول (صلي الله عليه وسلم).

.....

.....

.....

.....

السؤال الثالث: أجب عما يأتي:

1- اتجه المسلمون عام ٢١ هـ لفتح الإمبراطورية الفارسية بأكملها لأسباب

- أ) سياسية
ب) اقتصادية
ج) عسكرية
د) اجتماعية

2- عمل الرسول ﷺ على تقوية الجبهة الداخلية وبناء مجتمع مترابط في المدينة بعد الهجرة من خلال

- أ) إنشاء الأسواق
ب) طرد اليهود
ج) وضع صحيفة المدينة
د) البناء العسكري للدولة

3- أصبح هناك فاصل طبيعي بين الدولة الساسانية والدولة الإسلامية بالعراق بعد

- أ) موقعة البويب
ب) فتح المدائن
ج) معركة القادسية
د) موقعة ذات السلاسل

4- يمكن الاستفاد من المبدأ الذي وضعه الرسول ﷺ للمهاجرين (من أحيأ أرضاً مواتاً فهي له) من خلال

- أ) الاهتمام بالأرض الزراعية الخصبة
ب) التشجيع على زراعة أسطح المنازل
ج) إنشاء المزيد من الجمعيات الزراعية
د) تحفيز المزارعين على استصلاح الصحاري

5- كان السبب المباشر في قيام غزوة بني قينقاع عام ٢ هـ قيام اليهود ب

- أ) نقض بنود صحيفة المدينة
ب) التحالف مع المشركين ضد المسلمين
ج) نشر الشائعات علي المسلمين
د) خيانة المسلمين في غزوة الخندق

السؤال الرابع: أجب عما يأتي:

- 1- يظهر وجه الشبه بين قريش والمنافقين في العداء للمسلمين من خلال
- أ) التحالف مع الروم ب) التحالف مع الفرس
ج) التفاوض والمساومة مع المسلمين د) نشر الشائعات والأكاذيب
- 2- نجح العباسيون في استعادة السيطرة البحرية على البحر المتوسط في المناطق القريبة من إفريقية بفضل مساعدة....
- أ) الإخشيديين ب) الأغالبة
ج) الأدارسة د) الطولونيين
- 3- يدل الأثر الموضح بالصورة المقابلة على انتشار المسيحية في
- أ) الشام ب) اليمن
ج) الحجاز د) العراق
- 4- اعتمد الحارث بن كلدة الثقفي في تميزه العلمي على
- أ) معرفة مواقع النجوم والكواكب ب) الرحلات إلى البلاد البعيدة
ج) معرفة أهمية الأعشاب والنباتات د) معرفة أوقات هبوب الرياح ونزول الأمطار الطبيعية
- 5- «الجاهل من تعثر بالحجر مرتين». من خلال دراستك ينطبق هذا المثل على
- أ) حاكم سبته ب) جريجوريوس
ج) ملك الصين د) يزيدجرد الثالث
- 6- حدد وجه الشبه والاختلاف بين: غزوة مؤتة، ومعركة بلاط الشهداء.



بقايا كنيسة الرصافة

المادة/ جغرافيا	امتحان الفصل الدراسي الأول 2023 م / 2024 م	نموذج استرشادي
الصف/ الثاني الثانوي		
الزمن/ ساعة ونصف		

الورقة الأولى

السؤال الأول: أجب عما يأتي:

- 1- يعد قتل الأفيال في الغابات للحصول على أنيابها لأغراض اقتصادية مظهر من مظاهر
- أ) نشر الوعي البيئي
ب) اختلال التوازن البيئي
ج) تحقيق الاستدامة البيئية
د) إعادة التوازن البيئي
- 2- تهدف المنظمة الموضحة في الصورة المقابلة إلى التركيز على التنمية

أوابك

منظمة الأقطار العربية المصدرة للبتترول

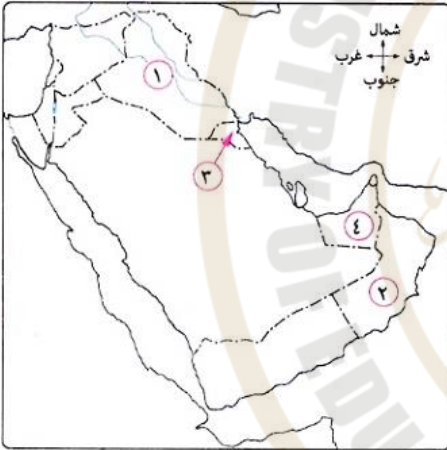


- أ) البشرية
ب) الاقتصادية
ج) المستدامة
د) الاجتماعية

- 3- يؤكد عجز دول شمال أوروبا عن زراعة القصب والبحث عن بدائل له مثل البنجر لإنتاج السكر صحة النظرية

- أ) الاحتمالية
ب) الإمكانية
ج) التوافقية
د) البيئية

- 4- أى من الدول العربية الموقعة على الخريطة المقابلة تلى المملكة السعودية في إنتاج البترول لعام ٢٠١٤م؟



- أ) الدولة رقم (1)
ب) الدولة رقم (2)
ج) الدولة رقم (3)
د) الدولة رقم (4)

- 5- يمثل توصيل مياه نهر النيل لاستصلاح الأراضي بشمال سيناء إدارة موارد المياه العذبة وهى

- أ) دعم مصادر المياه بطرق غير تقليدية
ب) فرض التسير
ج) رفع كفاءة أساليب الري
د) إقامة مشروعات لضبط المياه

- 6- (يُعد البحر المتوسط أعلى بحار العالم تلوثًا). وضح كيف يمكن للدول المطلة عليه إدارة مياه هذا المورد.

6

السؤال الثاني: أجب عما يأتي:

- 1- من النتائج الإيجابية المترتبة على إنشاء السد العالى في مصر

- أ) زيادة أعداد المصارف
ب) زيادة خصوبة التربة الزراعية
ج) استنباط أنواع جديدة من المحاصيل
د) تقليل الفاقد من الماء عند المصب

- 2- أي مما يلي بعد أحد متطلبات التنمية ذات البعد الاجتماعي؟


- أ) تطوير شبكة الطرق والمواصلات
ب) جذب الخبرات الأجنبية للسوق المحلي
ج) الحد من غازات الاحتباس الحراري
د) القضاء على مشكلة الأمية

3- يعد ارتفاع منسوب المياه وغرق الشواطئ من نتائج تفاعل الإنسان مع البيئة في الم

Ⓐ الأولى Ⓑ الثانية

Ⓒ الثالثة Ⓓ الرابعة

4- تمثل الصورة المقابلة أحد أساليب إدارة موارد المياه العذبة من خلال



Ⓐ وسائل غير تقليدية

Ⓑ نشر الوعي المائي

Ⓒ السياسة المائية

Ⓓ مشروعات ضبط المياه

5- يعد الاحتباس الحراري أحد نتائج التركيز على التنمية

Ⓐ الاقتصادية

Ⓑ البشرية

Ⓒ الاجتماعية

6- فسر: التنمية المستدامة أشمل مفاهيم التنمية.

السؤال الثالث: أجب عما يأتي:

1- توضح الصورة المقابلة أحد صور المشاركة الفعالة للتقنيات الحديثة في مجال



تبطين الترع

Ⓐ التنمية الزراعية

Ⓑ التخطيط العمراني

Ⓒ التنمية الصناعية

Ⓓ البحث عن الموارد المائية

2- أي مما يلي يساهم في تحقيق استدامة الموارد المعدنية؟

Ⓐ مراعاة الكمية المقرر استخراجها

Ⓑ سنوياً

Ⓒ استخراج الخامات القريبة من سطح

Ⓓ الأرض

Ⓐ تحديد نسبة المعدن في الخام

Ⓑ الربط بين مناطق الإنتاج والتصنيع

3- أي من روافد المنابع الموسمية الآتية يساهم بأدنى إيراد يصل سنوياً إلى دولة المصب؟

Ⓐ نهر السوبات

Ⓑ نهر عطبرة

Ⓒ النيل الأزرق

Ⓓ خور القاش

4- يرجع عدم التأثير السلبي للإنسان على البيئة في المرحلة الثانية إلى

Ⓐ خضوعه الكامل للبيئة

Ⓑ طبيعة النفايات التي خلفها

Ⓒ تفعيل دور المنظمات الدولية

Ⓓ استخدامه الطرق الحديثة

5- يمثل توفير بيانات عن الحشرات الناقلة للأمراض وأماكن انتشارها أحد استخدامات التقنيات الحديثة في مجال ...

Ⓐ صيانة وحماية البيئة

Ⓑ النمو العمراني

ج التمية الزراعية

6- فسر: يمثل الحفاظ على العلاقات الخارجية لبعض الدول العربية أهمية شديدة لأمنها المائي؟

.....

.....

.....

.....

6

السؤال الرابع: أجب عما يأتي:

1- يُعد من الأسباب الطبيعية لأزمة المياه العذبة في الوطن العربي

أ) الزيادة الطبيعية للسكان

ب) سيادة النشاط الزراعي

ج) الموقع الفلكي للوطن العربي

د) الاعتماد على الري بالغمر

2- تظهر في الصورة المقابلة إحدى المشكلات التي تواجه العالم والتي تدخل ضمن مجال اهتمام جغرافية التنمية ..

أ) الاقتصادية

ب) الاجتماعية

ج) البشرية

د) البيئية



ظاهرة تصحر التربة الزراعية

3- يعد رصد الملوثات الصلبة في مجارى الترعى من فوائد استخدام التقنيات الحديثة في مجال

أ) النمو العمراني

ب) التمية الزراعية

ج) البحث عن الموارد المائية

د) التمية الصناعية

4- أى من المشكلات الآتية تتوقع أن تواجه دولة موريتانيا في استثمار الحديد محلياً ؟

أ) قلة كمية الاحتياطي

ب) انخفاض نسبة الحديد في الخام

ج) تدنى مستوى التقنيات الحديثة

د) موقعها الفلكي والجغرافي

5- من المؤكد أنه فى حالة امتداد نهر النيل من الشرق إلى الغرب أن

أ) يزيد المتوقع من إبراده المائي

ب) يحدث ثبات فى معدل انحداره

ج) يختفى التنوع فى أقاليمه المناخية

د) ترتفع معدلات التبخر فى مياهه

6- ما مقترحاتك لتمية الإنتاج المعدنى فى مصر؟

.....

.....

.....

.....

6